

绝密★启用前

# 2021 年黄河水利职业技术学院单独招生考试 职业适应性测试试卷

注意事项：

1. 本试卷共 7 页，满分 120 分。考试时间为 90 分钟。
2. 答题前，考生务必将自己的姓名、准考证号填写在试卷和答题纸上。
3. 必须使用同一种颜色(蓝色、黑色或蓝黑色)的钢笔或中性笔答题。
4. 必须将答案写在答题纸上，否则无效。
5. 本试卷选择题均为单项选择。
6. 不准在答题纸上作任何暗示性标记，否则以作弊处理。

## 一、基本常识测试(每小题 1 分，共 20 分)

1. 黄河发源于巴颜喀拉山北麓，最终注入（ ）。  
A. 黄海      B. 东海      C. 南海      D. 渤海
2. 下列与“三”有关的故事，哪一组不是出自同一名著？（ ）。  
A. 三顾茅庐、桃园三结义      B. 三打祝家庄、三碗不过岗  
C. 三探无底洞、三计乱荆州      D. 三打白骨精、三借芭蕉扇
3. 2021 年是中国共产党建党（ ）周年。  
A. 80      B. 90      C. 100      D. 200
4. “路漫漫其修远兮，吾将上下而求索”的文学形式为（ ）。  
A. 楚辞      B. 唐诗      C. 宋词      D. 元曲
5. 诗句“暖风熏得游人醉，只把杭州作汴州”中的“汴州”指的是今天的（ ）。  
A. 西安      B. 开封      C. 南京      D. 北京
6. 下列高原属于喀斯特地貌的是（ ）。  
A. 青藏高原      B. 黄土高原      C. 云贵高原      D. 内蒙古高原
7. 万有引力定律是由（ ）提出的。  
A. 门捷列夫      B. 牛顿      C. 哥白尼      D. 爱因斯坦
8. 都江堰工程位于（ ）。  
A. 河南省      B. 湖北省      C. 四川省      D. 云南省

9. “先天下之忧而忧，后天下之乐而乐”出自宋代文学家（ ）。
- A. 韩愈的《师说》                      B. 欧阳修的《醉翁亭记》  
C. 范仲淹的《岳阳楼记》              D. 李白的《蜀道难》
10. 中国四大古典文学名著是《三国演义》《水浒传》《西游记》和（ ）。
- A. 《红楼梦》      B. 《醒世恒言》      C. 《搜神记》      D. 《西厢记》
11. 煤气中毒实际是（ ）中毒。
- A. 一氧化碳      B. 二氧化碳      C. 氢气      D. 氧气
12. 南水北调中线工程是为（ ）供水。
- A. 北京和上海      B. 香港和深圳      C. 天津和济南      D. 北京和天津
13. （ ）既是我国传统节日又是二十四节气。
- A. 清明      B. 惊蛰      C. 中秋      D. 春节
14. 下列属于直系血亲关系的是（ ）。
- A. 祖孙之间的关系                      B. 叔侄之间的关系  
C. 夫妻之间的关系                      D. 父子之间的关系
15. 国家主席习近平 2020 年 8 月 11 日签署主席令，授予（ ）“共和国勋章”。
- A. 钟南山      B. 屠呦呦      C. 李兰娟      D. 袁隆平
16. 开封的市花是（ ）。
- A. 牡丹      B. 菊花      C. 月季      D. 杜鹃
17. （ ）标志新民主主义革命的伟大开端。
- A. 辛亥革命      B. 五卅运动      C. 五四运动      D. 八七会议
18. 下列不属于中国古代四大发明的是（ ）。
- A. 指南针      B. 造纸术      C. 火药      D. 汉字
19. 下列选项中均与端午节有关的民俗是（ ）。
- A. 剪窗花、放风筝、吃粽子              B. 赏月、饮菊花酒、猜灯谜  
C. 吃粽子、赛龙舟、饮雄黄酒              D. 赏菊花、插柳、吃粽子
20. 时代楷模是具有很强先进性、代表性、时代性和典型性的先进人物。下列时代楷模被授予“用生命担当使命的新时代英雄战士”的是（ ）
- A. 黄大年      B. 黄文秀      C. 张富清      D. 杜富国

## 二、分析推理能力测试（每小题 4 分，共 40 分）

21. 在选项中选定一组在逻辑关系上最为贴近、相似或匹配的词语。  
分母：除数（ ）

- A. 内角：外角                      B. 加减法：乘除法  
C. 百分比：百分率                 D. 横坐标：纵坐标

22. 在选项选定一组在逻辑关系上最为贴近、相似或匹配的词语。

花椒：麻（ ）

- A. 月亮：圆            B. 饮料：冷            C. 陈醋：酸            D. 水泥：硬

23. 在选项选定一组在逻辑关系上最为贴近、相似或匹配的词语。

建筑材料：混凝土：水泥（ ）

- A. 医疗用具：注射器：药物        B. 监控：监视器：画面  
C. 交通设施：减速带：警示牌       D. 饮料：汽水：二氧化碳

24. 在选项选定一组在逻辑关系上最为贴近、相似或匹配的词语。

民歌对于（ ）相当于（ ）对于航天器

- A. 民谣 飞机    B. 民间 太空    C. 舞曲 宇航员    D. 歌曲 飞船

25. 在选项选定一组在逻辑关系上最为贴近、相似或匹配的词语。

书签对于（ ）相当于（ ）对于浏览器

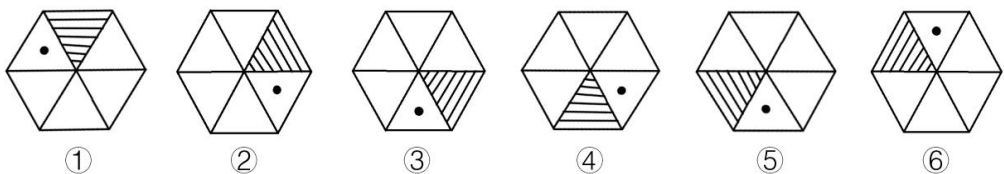
- A. 阅读 网页    B. 书本 收藏夹    C. 记录 网页    D. 书本 插件

26. 在选项选定一组在逻辑关系上最为贴近、相似或匹配的词语。

（ ）对于织物相当于彩陶对于（ ）

- A. 刺绣 陶器    B. 染料 彩绘    C. 丝绸 岩画    D. 织机 图案

27. 把下面的六个图形分为两类，使每一类图形都有各自的共同特征或规律，分类正确的一项是（ ）



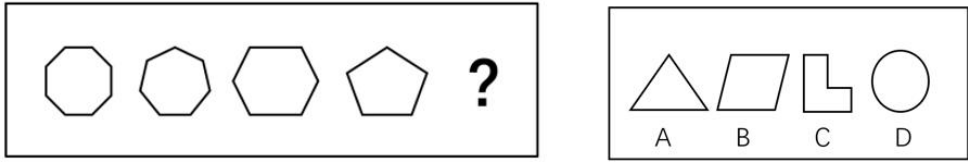
- A. ①④⑤, ②③⑥                      B. ①③④, ②⑤⑥  
C. ①②⑤, ③④⑥                      D. ①④⑥, ②③⑤

28. 从所给的四个选项中，选择最合适的一个填入“？”处，使之呈现一定的规律性。（ ）

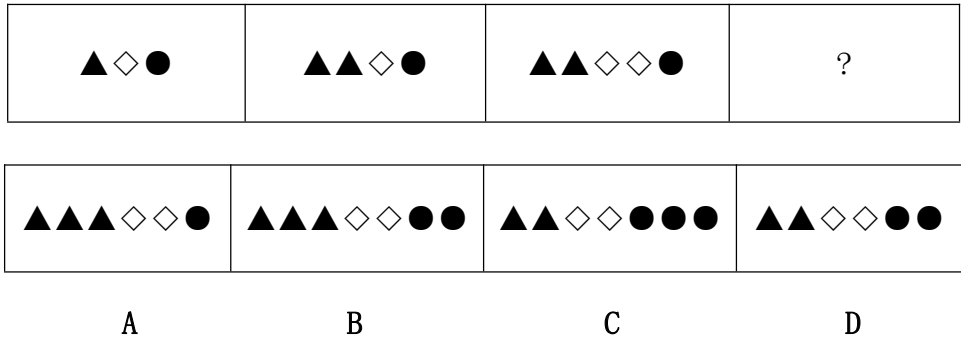
茯苓	茱萸	荷花	艾草	？
----	----	----	----	---

- A. 地黄            B. 菖蒲            C. 山药            D. 苦笋

29. 请从 4 个选项中选择你认为最适合取代“？”的一个图形。( )



30. 从所给的四个选项中，选择最合适的一个填入“？”处，使之呈现一定的规律性。( )



### 三、理解能力测试（每小题 4 分，共 20 分）

31. 蜗牛参加了很多次动物运动会，成绩如下：跳高，零；跳远，不到一厘米；短跑，一小时一米；马拉松，到了下一届运动会开幕还没跑完，结果每次都没有得奖。今年，蜗牛参加了攀岩比赛，它速度不快，但却登上了顶峰，获得了冠军。

与这个故事寓意最相符的是 ( )。

- A. 天生我材必有用
- B. 冰冻三尺，非一日之寒
- C. 生命在于运动
- D. 金无足赤，人无完人

32. 重大疫情面前，及时发布权威信息，能够有效解决信息不对称的问题，压减谣言等虚假信息传播空间，更好地维护社会大局稳定。疫情期间，有关部门和相关机构及时发布确诊、疑似、治愈和病亡人员数据，一些互联网企业运用大数据、云计算、可视化技术，推出“实时疫情动态”“疫情地图”“同乘患者查询系统”“发热门诊地图”等产品，同步普及科学防护知识，有效满足了民众的信息需求，引导群众理性看待疫情、增强自我防范意识和防护能力。

这段文字意在强调 ( )。

- A. 利用技术手段增强自我防护能力
- B. 信息公开透明有助于疫情防护
- C. 重大疫情面前，不信谣，不传谣
- D. 勤洗手，多通风有助于疫情防控

33. 随着智能手机的功能不断增加，手机电池有限的续航能力已不能满足待机需要，充电宝顺理成章地成为高频应用。而共享充电准入门槛低，线下布局容易，只要抓住“流量”和“刚需”，共享充电几乎是一桩可以看得见盈利的生意。进入5G时代，视频内容、视频电话、视频直播、高清网络游戏等都将考验手机电池的续航能力，成熟的共享充电场景或将消除这一顾虑。

这段文字主要介绍了共享充电的（ ）。

- A. 盈利模式
- B. 应用场景
- C. 销售策略
- D. 市场前景

34. 研究发现，人格特质会对一个人能否拥有充足、良好的睡眠产生影响。例如，一个责任心水平较低的人很难自我约束，去按照既定计划完成任务。因此他们很难形成固定、良好的睡眠习惯。内向的人更难以入睡，因为他们更喜欢在独处状态下思考问题。当他们夜晚独自躺在床上，会有意识地思考问题，导致更加难以入睡。同样，研究人员也发现，习惯早起的人更有责任心，晚上不睡的夜猫子型的人更喜欢新鲜的刺激。每个人其实有着不同的适应自身的睡眠偏好，而这些习惯，（ ）。

- A. 很难在短时间内发生根本改变
- B. 实际上也反映着你的人格特质
- C. 最终必然会影响到你的身心健康
- D. 其实也不存在绝对的评价标准

35. 极光是来自大气外的高能粒子与高层大气中的原子相互作用的结果。这种相互作用常发生在地球磁极周围区域。据现在所知，作为太阳风的一部分，高能粒子到达地球附近时，被地球磁场俘获，朝向磁极下落。它们与氧和氮的原子碰撞，击走电子使其成为激发态的离子，这些离子发射不同波长的辐射，产生出红、绿或蓝等色的极光特征色彩。

根据这段文字，以下说法错误的是（ ）。

- A. 太阳风在高层大气自放电产生极光
- B. 地球磁场强度影响极光的发生概率
- C. 激发态的离子可以发出不同的色彩
- D. 上文中的“其”指的是氧和氮的原子

#### 四、材料分析能力测试（每小题 4 分，共 20 分）

根据以下材料，回答 36-40 题。

全国水资源一级分区主要湿地类型和面积统计表

（单位：km<sup>2</sup>）

一级流域	合计	占比 (%)	滨海湿地	河流湿地	湖泊湿地	沼泽湿地	人工库塘
合计	34958673	100	2414842	8206982	8351587	13700289	2284973
占比 (%)	100		6.91	23.48	23.89	39.19	6.54
松花江	7657377	21.90	5825	1189049	737766	5422220	302517
辽河	1506982	4.31	268077	522448	72926	477341	166190
海河	1560921	4.47	323725	679708	317570	104537	135381
淮河	1476901	4.22	117808	591980	550238	3884	212991
黄河	2791914	7.99	313000	1282935	387122	665162	143695
长江	7105776	20.33	334617	2541991	1774240	1749602	705326
东南诸河	551730	1.58	272654	136489	19542	0	123045
珠江	1659966	4.75	779136	516295	55769	13050	295716
西南诸河	2192130	6.27	0	81830	737939	1364575	7786
西北诸河	8199713	23.46	0	434242	3673775	3899918	191778
其他：	西藏部分数据没法落实到河流			230015	24700	0	548

36.根据上表，全国水资源一级分区主要湿地类型不包括（ ）

A.滨海湿地 B.草原湿地 C.湖泊湿地 D.人工库塘

37.全国水资源一级分区主要湿地面积比例最大的河流是（ ）

A.松花江 B.西北诸河 C.长江 D.黄河

38.根据上表，长江流域河流湿地约占全部河流湿地面积的（ ）

A.20% B.25% C.30% D.35%

39.滨海湿地占一级流域湿地总面积比例最大的河流是（ ）

- A.淮河      B.黄河      C.珠江      D.长江

40.根据上表，下列说法不正确的是（ ）

- A.沼泽湿地面积占水资源一级分区主要湿地类型面积的近 40%  
B.主要湿地类型面积相比，滨海湿地与人工库塘面积相差最小  
C.湖泊湿地和沼泽湿地是西北诸河最主要的湿地类型  
D.河流越长，流域面积越大，湿地类型越多，湿地面积越大

## 五、表达能力测试题（共 20 分）

“直播带货”即通过互联网平台，使用直播技术，进行线上展示、导购、销售的新型商品交易形式，是“新一代电子商务模式”。

新冠肺炎防控期间，“直播带货”有效解决了实体店顾客大幅减少、库存积压、商品滞销的问题，一批“大流量”带货主播实现了惊人的销售业绩，吸引了众多行业采用这种模式。“直播带货”已成为广为人知的流行语，进入大众视野。

请你结合实际情况，为家乡某一特产撰写“直播带货”的推介词。

要求：定位准确，言之有理，用词贴切，字数不少于 300 字。