

绝密★启用前

2014 年黄河水利职业技术学院单独招生考试 理工类 职业潜质与综合素质考核（笔试）

注意事项：

1. 本试卷共 6 页，满分 200 分，考试时间为 2014 年 4 月 13 日 14:30 ~ 16:00。
2. 答题前，考生务必将自己的姓名、准考证号填写在试卷和答题纸上。
3. 必须使用同一种颜色(蓝色、黑色或蓝黑色)的钢笔、圆珠笔或中性笔答题。
4. 必须将答案写在答题纸上，否则无效。
5. 不准在答题纸上作任何暗示性标记，否则以作弊处理。

一、基本常识测试(每小题 4 分，共 40 分)

1. 我国明代“七下西洋”的航海家是谁？（ ）
A.郑成功 B.郑和 C.张骞 D.徐福
2. 我们通常所说“煤气中毒”是由于煤气中哪种气体吸入过量造成的？（ ）
A.一氧化碳 B.一氧化氮 C.二氧化硫 D.二氧化碳
3. 国际通用的求救信号是哪三个字母序列？（ ）
A.GPS B.SOS C.GIS D.EMS
4. 我国规定的人体安全电压是多少？（ ）
A.36V B.48V C.72V D.110V
5. 以下哪项被称为我国的母亲河？（ ）
A.松花江 B.长江 C.黄河 D.淮河
6. 艾滋病病毒的主要传播途径除了性传播、母婴传播外，还有（ ）。
A.空气传播 B.握手传播 C.水传播 D.血液传播
7. 2014 年是中华人民共和国成立（ ）。
A.60 周年 B.64 周年 C.65 周年 D.66 周年
8. 国家标准规定，电动自行车最高限速为多少公里/小时？（ ）
A.10 B.15 C.20 D.26

9. 唐朝的东都处于现在哪个城市? ()
A.西安市 B.南京市 C.北京市 D.洛阳市
10. 目前拥有深度 6000m 级深水潜水器的国家不包括 ()。
A.美国 B. 英国 C.俄罗斯 D.中国

二、类比推理 (每题给出一组相关的词, 请考生在备选答案中找出一组与之在逻辑关系上最为贴近或相似的词。每小题 5 分, 共 40 分)

11. 公路: 汽车: 驾驶员 ()
A.酒店: 餐桌: 餐具 B.海洋: 轮船: 鲨鱼
C.森林: 树木: 老虎 D.书架: 书: 文字
12. 嫦娥: 月亮 ()
A.屈原: 作者 B.李白: 唐诗
C.哪吒: 天宫 D.司马迁: 史记
13. 剪刀: 布匹 ()
A.玻璃: 门窗 B.锯子: 木头
C.衣服: 缝纫机 D. 门窗: 玻璃
14. 森林: 树木 ()
A.建筑群: 建筑物 B.生物: 动物
C.食品: 牛奶 D.电脑: 硬盘
15. 中医: 号脉 ()
A.西医: 手术 B.电脑: 打字
C.画家: 染料 D.调查: 取样
16. 水: 水杯 ()
A.衣服: 衣架 B.房子: 窗户
C.货物: 集装箱 D.拐杖: 轮椅
17. 花: 雪花: 杜鹃花 ()
A.瓜: 西瓜: 哈密瓜 B.人: 白人: 机器人
C.山: 黄山: 长白山 D.海: 上海: 地中海

18. 克服：应对：危机（ ）

A. 开发：企业：产品

B. 攻克：科学：难题

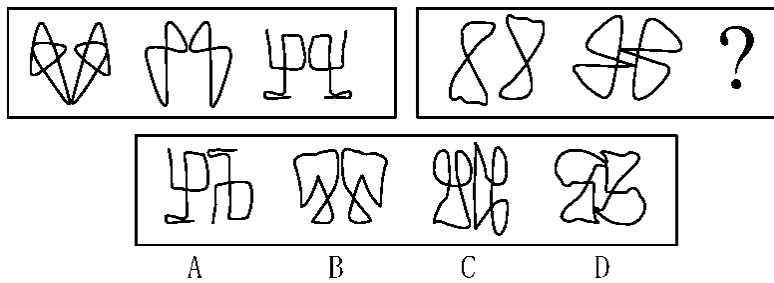
C. 展望：迎接：未来

D. 登月：航天：工程

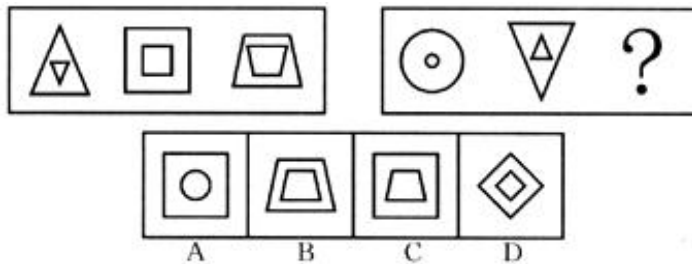
三、图形推理（本题包括二种题型，共4小题。每小题5分，共20分）

（一）请从4个选项中选择你认为最适合取代“？”号的一个图形。正确的答案应不仅使两套图形表现出最大的相似性，而且使第二套图形也表现出自己的特征。

19. （ ）

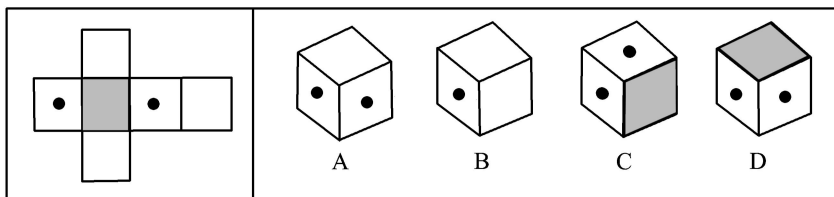


20. （ ）

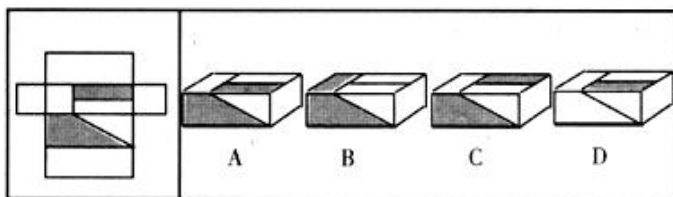


（二）每题右面的4个图形中，只有一个是左边的纸板折叠而成，请选出正确的图形。

21. （ ）



22. ()



四、判断推理 (每题给出一段陈述，这段陈述被假设是正确的、不容置疑的，请根据这段陈述选择一个答案。每小题 10 分，共 20 分)

23. 张新、黎民、王亮三位老师分别来自湖南、广西、甘肃三省之中一个地方，他们分别教授语文、数学和英语中的一门课程。已知：①张新不是湖南人，黎民不是广西人；②湖南的老师不教英语；③广西的老师教语文；④黎民不教数学。由此可知，王亮 ()。

- A.教的是语文
- B.什么都不教
- C.教的是英语
- D.教的是数学

24. 开封是中国著名的古都，历史上先后有八个朝代在这里建都，尤以北宋时期的东京城最富繁盛，据史籍记载和专家考证，北宋东京城城垣共分外城、内城、皇城三重。其外城共有陆门十二座，新发现的子门是其中的一座，它位于宋东京外城的西城墙上，子门遗址距今开封市的前子门村、后子门村很近，这就说明这两个村是依据当时的城门起名的。

如果下列哪项为真，最能够质疑上述判断？ ()

- A.两个村子是解放后才命名的
- B.子门遗址并不在两个村子的中间
- C.开封市还有另外一个前子门村
- D.子门在南宋时期就毁坏了

五、理解与表达 (请在四个选项中选出一个你认为最恰当的答案。每小题 10 分，共 30 分)

25. 目前我国高校博物馆的数量已有 150 多座，然而这些博物馆却很寂寞，终年____，有的连自己学校的师生都不知晓，有的由于没有展出条件，众多的宝贝常年灰尘满面，利用率很低，至于说到免费开放和惠及民众，更是很____的话题。

依次填入划横线部分最恰当的一项是 ()

A.门可罗雀 遥远

B.无人问津 突兀

C.门庭冷落 生僻

D.人迹罕至 超前

26. ①商代以后，随着文字的出现，书写需求增加，周宣王时期“刑夷始制墨”，出现了颗粒状人工墨；

②到了以彩陶为典型特征的仰韶文化时期，已经有了用来研墨颜料的研磨器—石研；

③这些长过半米的大石器，是用来加工粮食的；

④砚起源于研磨器，目前已知最早的研磨器是距今七、八千年的裴李岗、磁山文化时期的石磨盘和石磨棒；

⑤此后，用于研磨的石研，就成为早期的砚。

将以上 5 个句子重新排列，语序正确的是（ ）

A.①③④⑤②

B.④③②①⑤

C.①③④②⑤

D.④③②⑤①

27. 在公共汽车上，一个人张大嘴打了个呵欠，他周围会有几个人也忍不住打起了哈欠。有些人不打哈欠是因为他们受暗示性不强。哪些人受暗示性强呢？可以通过一个简单的测试检查出来。让一个人水平伸出双手，掌心朝上，闭上双眼。告诉他现在他的左手上系了一个氢气球，并且不断向上飘；他的右手上绑了一块儿大石头，向下坠。三分钟以后，看他双手之间的差距，距离越大，则暗示性越强。

这段文字说明的主要是（ ）

A.人常常迷失在自我当中，形成一定程度的从众心理

B.人很容易受到来自外界信息的暗示，从而出现自我知觉的偏差

C.人很容易相信特别适合他的一个笼统的、一般性的人格描述

D.在日常生活中，人不可能总把自己放在局外人的地位来观察自己

六、分析与应用题 (根据资料回答 28 ~ 32 题。每小题 10 分 , 共 50 分)

表 1 观众与展商每小时入场情况表

9 月 27 日	时间	8 点	9 点	10 点	11 点	12 点	13 点	14 点	15 点	16 点	17 点
	展商	51	967	1301	754	263	188	192	245	124	48
	观众	4	324	1329	1578	1378	604	651	1291	546	170
	合计	55	1291	2630	2332	1641	792	843	1536	670	218
9 月 28 日	时间		9 点	10 点	11 点	12 点	13 点	14 点	15 点	16 点	17 点
	展商		651	854	250	140	112	111	104	37	16
	观众		273	1254	1365	664	415	440	414	217	24
	合计		924	2108	1615	804	527	551	518	254	40
9 月 29 日	时间		9 点	10 点	11 点	12 点	13 点	14 点	15 点	16 点	17 点
	展商		214	472	99	52	33	8	4	1	0
	观众		40	455	384	205	77	17	5	0	0
	合计		254	927	447	257	110	25	9	1	0

28. 下列哪个时间展商入场人数与观众入场人数相差最多? ()
- A.27 日 13 点 B.27 日 14 点 C.28 日 13 点 D.28 日 14 点
29. 展期内共有多少人次是在 16 点和 17 点入场的? ()
- A.1029 B.1183 C.1557 D.2326
30. 展期内第二个观众入场高峰出现在下列哪个时间? ()
- A.27 日 11 点 B.27 日 12 点 C.28 日 11 点 D.29 日 10 点
31. 下列说法与资料相符的是 ()
- A.9 点时展区内的展商比观众多
- B.11 点后入场的展商呈递减趋势
- C.27 日 10 点入场者超过半数展商
- D.29 日绝大多数观众是 10 点入场
32. 按照该时间入场的观众与展商的比值呈递减趋势的是 ()
- A.27 日 15 点, 28 日 11 点, 29 日 12 点
- B.28 日 11 点, 27 日 15 点, 29 日 12 点
- C.27 日 15 点, 29 日 12 点, 28 日 11 点
- D.29 日 12 点, 27 日 15 点, 28 日 11 点